

БЛАНК ЗАДАНИЙ
муниципального этапа всероссийской олимпиады школьников
по «Основам безопасности и защиты Родины»
2025-2026 учебный год
11 класс

г. Калининград, 2025

Уважаемый участник олимпиады!

Вам предстоит выполнить теоретические (модуль 1) и тестовые задания (модуль 2).

Время выполнения заданий теоретического тура 1,5 часа (90 минут).

Выполнение теоретических заданий модуля 1 целесообразно организовать следующим образом:

- не спеша, внимательно прочитайте задание и определите, наиболее верный и полный ответ;
- отвечая на теоретический вопрос, обдумайте и сформулируйте конкретный ответ только на поставленный вопрос;
- если Вы отвечаете на задание, связанное с заполнением таблицы или схемы, не старайтесь детализировать информацию, вписывайте только те сведения или данные, которые указаны в вопросе;
- особое внимание обратите на задания, в выполнении которых требуется выразить Ваше мнение с учетом анализа ситуации или поставленной проблемы. Внимательно и вдумчиво определите смысл вопроса и логику ответа (последовательность и точность изложения). Отвечая на вопрос, предлагайте свой вариант решения проблемы, при этом ответ должен быть кратким, но содержать необходимую информацию;
- после выполнения всех предложенных заданий еще раз удостоверьтесь в правильности выбранных Вами ответов и решений.

Выполнение заданий модуля 2 целесообразно организовать следующим образом:

- не спеша, внимательно прочитайте тестовое задание;
- определите, какой из предложенных вариантов ответа (в случае их наличия) наиболее верный и полный;
- напишите ответ (на задания со свободным ответом), либо букву, цифру, соответствующую выбранному Вами ответу (на задания с выбором ответа из предложенных);
- продолжайте, таким образом, работу до завершения выполнения заданий;
- после выполнения всех предложенных заданий еще раз удостоверьтесь в правильности ваших ответов;
- если потребуется корректировка выбранного Вами варианта ответа, то неправильный вариант ответа зачеркните крестиком и рядом напишите новый.

Предупреждаем Вас, что:

- при оценке заданий модуля 2, где необходимо определить один правильный ответ, 0 баллов выставляется за неверный ответ и в случае, если участником отмечены несколько ответов (в том числе правильный), или все ответы;

– при оценке заданий модуля 2, где необходимо определить все правильные ответы, 0 баллов выставляется, если участником отмечены неверные ответы, большее количество ответов, чем предусмотрено в задании (в том числе правильные ответы) или все ответы.

Задание теоретического тура считается выполненным, если Вы вовремя сдаете его членам жюри.

По теоретическому туру максимальная оценка результатов участника определяется арифметической суммой всех баллов, полученных за выполнение заданий и тестов и не должна превышать **150 баллов (100+50)**.

Максимальная оценка – 150 баллов.

МОДУЛЬ 1

ЗАДАНИЕ 1. Используя указанные мнемонические индексы протокола (правила) «Кулак- барин» запишите расшифровку этих индексов и содержание проводимых мероприятий.

Максимальная оценка— 20 баллов.

ЗАДАНИЕ 2. Соотнесите названия заболеваний, передающихся половым путем и возбудителей, вызывающих эти заболевания. Ответ запишите в таблицу.

Максимальная оценка— 10 баллов.

ЗАДАНИЕ 3. В целях уменьшения заметности техники и объектов или искажения их вида, придания им цвета и рисунка окружающей местности, повышения правдоподобия макетов техники и ложных сооружений применяется маскировочное окрашивание. Основными видами маскировочного окрашивания являются защитная, имитирующая и деформирующая окраски. Сопоставьте (соедините стрелками) виды окрашивания с их описанием.

Максимальная оценка— 6 баллов.

ЗАДАНИЕ 4. По характеру воздействия на организм человека отравляющие вещества делятся на группы, соотнесите эти группы с названиями отравляющих веществ, соединив стрелками.

Максимальная оценка— 12 баллов.

ЗАДАНИЕ 5. Существует группа предупреждающих знаков безопасности. Знаки оформляются в виде треугольника желтого цвета с черной внешней окантовкой, внутри которого черным цветом на желтом фоне нарисовано символическое изображение (иногда надпись). В левом столбце таблицы представлены предупреждающие знаки безопасности. В соответствующих ячейках правого столбца напишите, что означает каждый знак (о чем он предупреждает).

Максимальная оценка— 10 баллов.

ЗАДАНИЕ 6. Запишите названия характеристик стрелкового оружия по их описанию.

Максимальная оценка— 12 баллов.

ЗАДАНИЕ 7. Запишите какие мероприятия по оказанию первой помощи пострадавшему, в зависимости от характера травм, ранений, отравлений, укусов или ужаливаний ядовитых животных, поражений, вызванных механическими, химическими, электрическими, термическими поражающими факторами, воздействием излучения, и других состояний, угрожающих его жизни и здоровью выполняются в соответствии с порядком оказания первой помощи, утвержденным приказом Министерства здравоохранения Российской Федерации от 3 мая 2024г. № 220Н:

Максимальная оценка— 10 баллов.

ЗАДАНИЕ 8. Запишите в таблицу напротив с изображённых эмблемам названия соответствующих им силовых ведомств Российской Федерации (допускается указание сокращённых названий).


Максимальная оценка— 8 баллов.


ЗАДАНИЕ 9. Соотнесите изображения образцов вооружения и военной техники с их названиями.

Максимальная оценка— 12 баллов.


МОДУЛЬ 2

Тестовые задания

№ п/п	Тестовые задания	Макс. балл
<i>Определите один правильный ответ</i>		
1.	<p>Ухудшение двигательных функций организма в условиях пожара начинается при снижении концентрации кислорода в воздухе:</p> <p>а) на 1 % б) на 3 % в) на 10 % г) на 15 %</p>	1
2.	<p>При проведении сердечно-легочной реанимации на 2 вдоха искусственного дыхания должно быть потрачено:</p> <p>а) не более 8 секунд б) не более 10 секунд в) не более 12 секунд г) не более 12 секунд</p>	1
3.	<p>Изображенный знак пожарной безопасности имеет следующее смысловое значение:</p> <div style="display: flex; align-items: center; justify-content: center;"> <div style="margin-right: 20px;"> <p>а) пожарный гидрант б) пожарный кран в) пожарный водоисточник г) звуковой оповещатель пожарной тревоги</p> </div>  </div>	1
4.	<p>Буква «К» в соответствии с Международной таблицей сигналов бедствия, изображённая на земле обозначает:</p> <p>а) всё в порядке б) нужны медикаменты в) нужна медицинская помощь г) укажите направление следования</p>	1
5.	<p>Риск, с которым в данной ситуации и на данном этапе своего развития общество считает возможным мириться в процессе своей деятельности при существующих общественных ценностях называется:</p> <p>а) профессиональным б) приемлемым в) остаточным г) неустранимым</p>	1
6.	<p>Кровоостанавливающий жгут можно ослаблять (снимать) не более чем:</p> <p>а) на 10 минут б) на 30 минут в) на 15 минут г) на 1–2 минуты</p>	1

7.	<p>Комплекс мероприятий по переводу экономик страны, субъектов муниципальных образований, переводу органов государственной власти, местного самоуправления и организаций на работу в условиях военного времени, переводу вооруженных сил, других войск, воинских формирований, органов и специальных формирований на организацию и состав военного времени называется:</p> <p>а) режим чрезвычайной ситуации б) военное положение в) мобилизация г) гражданская оборона</p>	1
8.	<p>Учёту и регистрации подлежат беспилотные летательные аппараты (БПЛА) с максимальной взлётной массой от:</p> <p>а) 150 граммов б) 500 граммов в) 2,5 килограммов г) 10 килограммов</p>	1
9.	<p>Общие правила и обязанности военнослужащих, взаимоотношения между ними, обязанности основных должностных лиц полка и его подразделений, а также правила внутреннего распорядка определяет:</p> <p>а) Устав внутренней службы Вооруженных Сил Российской Федерации б) Строевой устав Вооруженных Сил Российской Федерации в) Дисциплинарный устав Вооруженных Сил Российской Федерации г) Устав гарнизонной и караульной служб Вооруженных Сил Российской Федерации</p>	1
10.	<p>Какая начальная скорость пули у 7,62-мм снайперской винтовки Драгунова СВД?</p> <p>а) 1150 м/с б) 790 м/с в) 830 м/с г) 450 м/с</p>	1
11.	<p>Какая противопехотная мина изображена на фотографии?</p> <p>а) ПФМ-1 б) ПМН-2 в) ОЗМ-72 г) МОН-50</p> 	1
12.	<p>Гражданский противогаз допускается применять при:</p> <p>а) относительной влажности воздуха не более 95% при объёмной доле кислорода в окружающей атмосфере не менее 17% б) относительной влажности воздуха не более 98% при объёмной доле кислорода в окружающей атмосфере не менее 17% в) относительной влажности воздуха не более 98% при объёмной доле кислорода в окружающей атмосфере не менее 15% г) относительной влажности воздуха не более 95% при объёмной доле кислорода в окружающей атмосфере не менее 15%</p>	1

13.	Горение, каких веществ относится к пожару класса D? а) твёрдых б) жидких в) газообразных г) металлов	1
14.	Удаление радиоактивных веществ с поверхностей оборудования, техники, вещевого имущества, средств защиты, продовольствия, местности, сооружений, а также из воды или снижение уровня радиоактивного загрязнения каких-либо поверхностей или каких-либо сред называется: а) дезинсекцией б) дезактивацией в) дегазацией г) дератизация д) дезинфекцией	1
15.	Информационные знаки системы навигации в сфере туризма имеют следующий цвет: а) зелёный б) синий в) жёлтый г) коричневый	1
16.	Наибольшая концентрация радона в квартире характерна для: а) кухни б) коридора в) спальни комнаты г) ванной комнаты	1
17.	Высшим орденом Российской Федерации является: а) ордена Святого Георгия б) ордена Святого апостола Андрея Первозванного в) ордена Александра Невского г) ордена "За заслуги перед Отечеством"	1
18.	Индикаторные трубки ВПХР с одним жёлтым кольцом предназначены для определения: а) зарина б) иприта в) фосгена г) синильной кислоты	1
19.	Кто из русских врачей впервые применил сортировку раненых в соответствии с тяжестью ранений а) Н. Н. Бурденко б) Н. И. Пирогов в) С.П. Боткин г) А.В. Вишневский	1
20.	Какое корабельное звание ВМФ соответствует войсковому званию майор: а) капитан-лейтенант б) капитан 2-го ранга в) капитан 3-го ранга г) капитан 1-го ранга	1

21.	<p>Как называется мультикоптер представленный на картинке?</p> <p>а) сикстокоптер б) октокоптер в) квадрокоптер г) квинтокоптер д) гексакоптер</p> 	1
22.	<p>Если во время купания Вы попали в отбойное течение (тягун, разрывное течение), то оптимальным решением для спасения жизни является:</p> <p>а) плыть против течения б) плыть по течению в) плыть перпендикулярно течению г) плыть под водой от берега</p>	1
23.	<p>Для безопасного передвижения по льду зимой толщина льда в солёном водоеме должна быть не менее:</p> <p>а) 15 см б) 10 см в) 5 см г) 7 см</p>	1
24.	<p>Какая площадь ожога тела взрослого человека, если у него поражена полностью поверхность левой ноги, а также поверхность голени и стопы правой ноги</p> <p>а) 12% б) 18% в) 27% г) 35%</p>	1
25.	<p>Контроль качества питьевой воды без специальных приборов (оборудования) возможен по:</p> <p>а) микробиологическим показателям б) паразитологическим показателям в) органолептическим свойствам г) обобщенным показателям качества</p>	1
26.	<p>Под местом массового пребывания людей понимается территория общего пользования федеральной территории, поселения, муниципального округа или городского округа, либо специально отведенная территория за их пределами, либо место общего пользования в здании, строении, сооружении, на ином объекте, на которых при определенных условиях может одновременно находиться более:</p> <p>а) 35 человек б) 40 человек в) 45 человек г) 50 человек</p>	1
27.	<p>Чрезвычайное положение на всей территории Российской Федерации или в её отдельных местностях вводится:</p> <p>а) Указом Президента Российской Федерации б) Постановлением Правительства Российской Федерации в) Постановлением Государственной Думы Российской Федерации г) Постановлением Совета Федерации Российской Федерации</p>	1

28.	На топографических картах элементы растительности обозначаются: а) жёлтым цветом б) зелёным цветом в) зелёным и жёлтым цветом г) зелёным и голубым цветом	1
29.	Днем воинской славы России – 3 сентября является: а) День победы русской эскадры под командованием Ф.Ф. Ушакова над турецкой эскадрой у мыса Тендра б) День Победы над милитаристской Японией и окончания Второй мировой войны в) День разгрома советскими войсками немецко-фашистских войск в битве за Кавказ г) День победного завершения советскими войсками Крымской наступательной операции	1
30.	Придание устойчивого бокового положения пострадавшему следует начать: а) с расположения одной руки пострадавшего под прямым углом к его телу б) с поворота нижней части его тела на бок в) с расположения руки пострадавшего тыльной стороной ладони к его щеке г) с расстегивания стягивающей одежды	1
31.	Памятной датой России – 19 апреля является: а) День солидарности в борьбе с терроризмом б) День принятия Крыма, Тамани и Кубани в состав Российской империи в) День воссоединения Донецкой Народной Республики, Луганской Народной Республики, Запорожской области и Херсонской области с Российской Федерацией г) День участников ликвидации последствий радиационных аварий и катастроф и памяти жертв этих аварий и катастроф	1
32.	При повреждении глаза для оказания первой помощи необходимо выполнить следующее: а) положить на поврежденный глаз салфетку, смоченную водой, туго забинтовать б) аккуратно промыть глаз чистой водой, повязку не накладывать в) наложить повязку на оба глаза с использованием перевязочного материала из аптечки первой помощи г) наложить повязку на поврежденный глаз, используя перевязочный материал из аптечки первой помощи	1
33.	Обязанности военнослужащих подразделяются на: а) общие, должностные, боевые и специальные б) общие, должностные и специальные в) общие, боевые и специальные	1
Определите все правильные ответы		
34.	По защитным свойствам бронеодежду подразделяют: а) на пулестойкую б) на противоосколочную в) на стойкую к воздействию холодного оружия г) взрывостойкую д) противоминную	3
35.	Контрольные узлы не вяжутся на следующих туристических узлах: а) австрийский проводник б) булинь	2

	в) грейпвайн г) ткацкий д) шкотовый	
36.	Каких военных округов не существует? а) Западный военный округ б) Московский военный округ в) Южный военный округ г) Ленинградский военный округ д) Центральный военный округ е) Сибирский военный округ ж) Восточный военный округ з) Дальневосточный военный округ	3
37.	Через какие органы или структуры человека прохождение путей тока является наиболее опасным? а) головной мозг б) печень в) кости г) сердце д) тонкий кишечник	2
38.	К химическим аддикциям относятся: а) шопинг б) алкоголизм в) интернет-аддикция г) наркомания д) анорексия	2
39.	Какие витамины относятся к группе жирорастворимых: а) А б) В в) С г) D д) К	3
40.	К отрицательным формам рельефа относятся: а) хребты б) холмы в) котловины г) овраги д) горы	2

Максимальное количество баллов за модуль – 50 баллов.